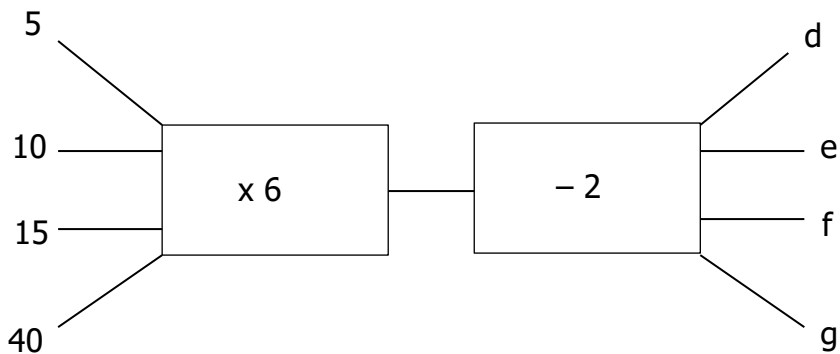
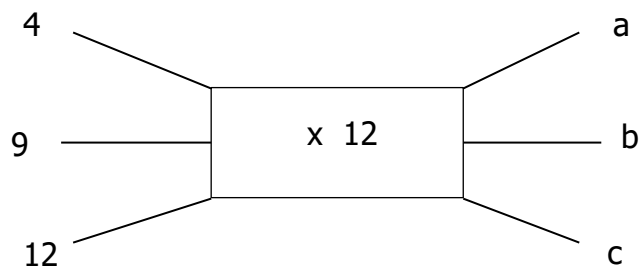


Aktiwiteit

Voltooi nou die volgende opdrag om te sien wat jy verstaan het.

1. Voltooi die volgende vloeiagramme.



2. Stel vloeiagramme op vir die volgende stellings. (Gebruik enige 3 invoergetalle om jou vloeiagram te toets.)

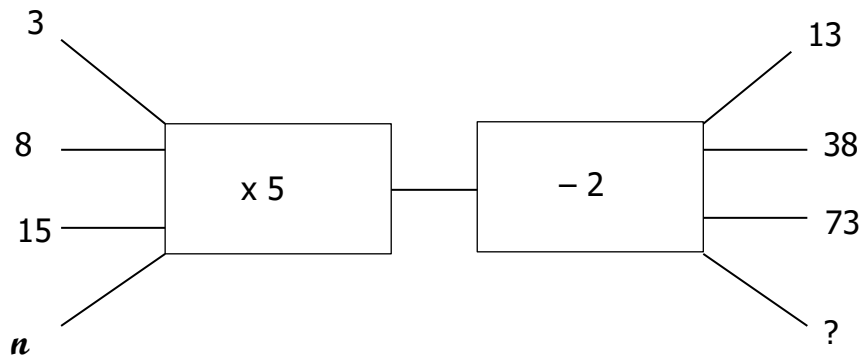
(a) Die invoergetal verminder met 4 en dan word die antwoord verdubbel om die uitvoergetal te gee.

(b) Die invoergetal vermeerder met 8.

(c) Maak die invoergetal 3 maal groter en verminder die antwoord dan met 5.

3. Skryf die volgende vloeiagramme se reëls as algebraïese uitdrukkings in terme van n .

(a)



(b)

